





一〇九學年度第二學期數學第二冊第七單元評量試題




國こ小こ年ねん班ぱん座ざ號ごう姓せい名な

一、填た填た看かん：每格5分，共40分


(1) 1個，可か以い換か成じ(5)個。


(2) 1個，可か以い換か成じ(10)個。


(3) 1個和わ10個，共く可か以い換か成じ(4)個。

(4) 2個，可か以い換か成じ(20)個，也も可か以い換か成じ(4)個。

(5) 一い個こ撲た滿まん賣ばい40元えん。

①全ぜん部ぶ用よ10元えん付つ，需ひ要よ(4)個。

②全ぜん部ぶ用よ5元えん付つ，需ひ要よ(8)個。

③全ぜん部ぶ用よ1元えん付つ，需ひ要よ(40)個。

二、數た數た看かん，各お有あ多おほ少おほ元えん？共20分

(1)



(35) 元えん

(2)



(21) 元えん

(3)



(63) 元えん

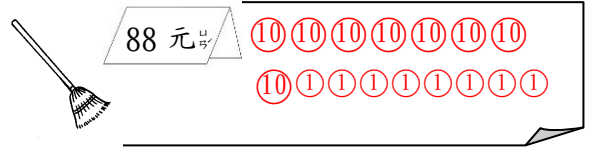
(4)



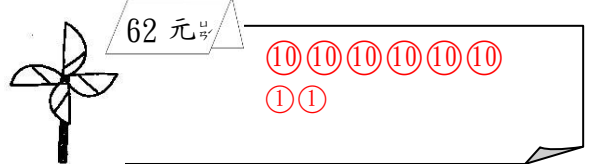
(93) 元えん

三、用表ひ示し、表ひ示し，畫か畫か看かん：每題8分，共16分 (畫法僅供參考)

(1)



(2)



四、看かん圖ず圈くわん看かん：每題6分，共24分

(1) 想おぼ買か一い個こ89元えん的の帽ぼう子こ，下した面の的の錢ぜに夠く不な夠く？



(夠く ， 不な夠く)

(2) 想おぼ買か一い枝え58元えん的の原げん子こ筆ふで，下した面の的の錢ぜに夠く不な夠く？



(夠く ， 不な夠く)

(3) 想おぼ買か一い杯はい55元えん的の奶な茶ちや，下した面の的の錢ぜに夠く不な夠く？



(夠く ， 不な夠く)

(4) 想おぼ買か一い個こ71元えん的の鉛えん筆ふで盒はこ，下した面の的の錢ぜに夠く不な夠く？



(夠く ， 不な夠く)