
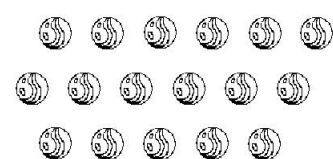



一〇九學年度第二學期數學第二冊第八單元評量試題


國こ小こ _____ 年ねん _____ 班ばん _____ 座ざ號ごう _____ 姓せい名な _____


一、把左邊答數和右邊個數相同
的用線連起來：每答5分，共20分


(1) $20 - 3$ 


ウ 

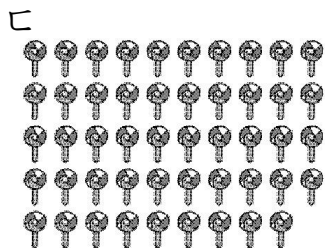
(2) $23 + 4$ 

ク 

(3) $8 + 41$ 

ク 

(4) $42 - 6$ 

ク 

二、算算看看：每題5分，共30分

(1) $25 - 4 = (21)$ (2) $31 + 6 = (37)$

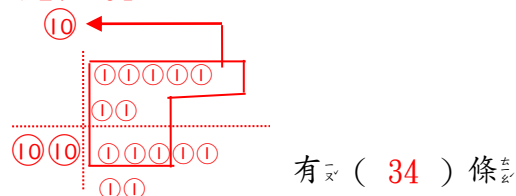
(3) $22 + 11 = (33)$ (4) $43 - 12 = (31)$

(5) $36 - 20 = (16)$ (6) $25 + 34 = (59)$

三、畫⑩和①做做看看，並用算式記
下來：每題10分，共50分（畫法請兒童自行發表）

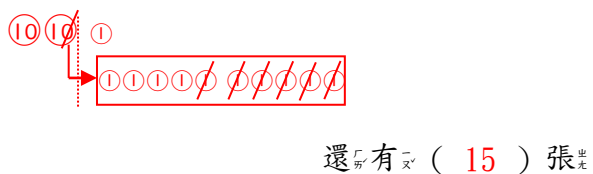
(1) 弟弟養了7條魚，爸爸又給他27
條，現在弟弟有幾條魚？

算式： $7 + 27 = 34$



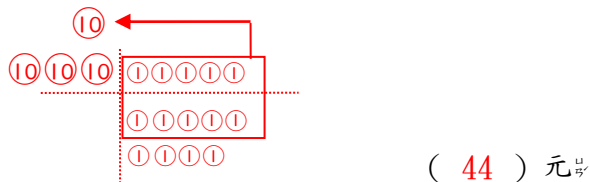
(2) 妹妹收集了21張郵票，用掉6
張後，妹妹還有幾張郵票？

算式： $21 - 6 = 15$



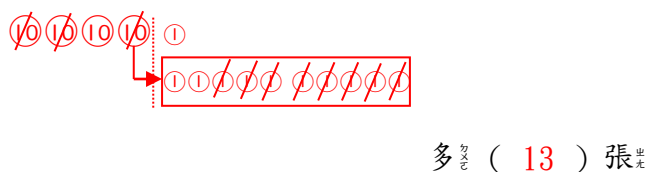
(3) 小安買了一包35元的餅乾和一
盒9元的果凍，共要付幾元？

算式： $35 + 9 = 44$



(4) 弟弟有41張遊戲卡，哥哥有28
張遊戲卡，弟弟比哥哥多幾張
遊戲卡？

算式： $41 - 28 = 13$



(5) 姐姐用彩色紙摺了34顆紙星星，
妹妹摺了15顆紙星星，誰摺的
姐姐比妹妹多摺幾顆星星？

算式： $34 - 15 = 19$

