

一〇九學年度第二學期數學第二冊第八單元評量試題

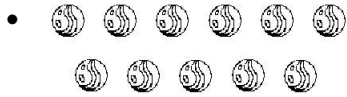
國こ小こ年ねん班ぱん座ざ號ごう姓せい名な

一、把左邊答數和右邊個數相同
的用線連起來：每答5分，共20分


ウ



(1) $20 - 3 =$




ク



(2) $23 + 4 =$

•

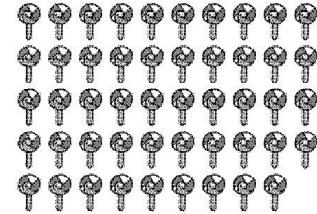
ク



(3) $8 + 41 =$

•

ク



(4) $42 - 6 =$

•

二、算算看看：每題5分，共30分

(1) $25 - 4 = (\quad)$

(2) $31 + 6 = (\quad)$

(3) $22 + 11 = (\quad)$

(4) $43 - 12 = (\quad)$

(5) $36 - 20 = (\quad)$

(6) $25 + 34 = (\quad)$

三、畫⑩和①做做看看，並用算式記
下來：每題10分，共50分

(1) 弟弟養了7條魚，爸爸又給他27
條，現在弟弟有幾條魚？

算式：

有 () 條

(2) 妹妹收集了21張郵票，用掉6
張後，妹妹還剩幾張郵票？

算式：

還有 () 張

(3) 小安買了一包35元的餅乾和一
盒9元的果凍，共要付幾元？

算式：

() 元

(4) 弟弟有41張遊戲卡，哥哥有28
張遊戲卡，弟弟比哥哥多幾張
遊戲卡？

算式：

多 () 張

(5) 姐姐用彩色紙摺了34顆紙星星，
妹妹摺了15顆紙星星，誰摺的
姐姐比妹妹多摺幾顆星星？

算式：

多 () 顆