


## 康軒五下數學 1-5 單元練習題

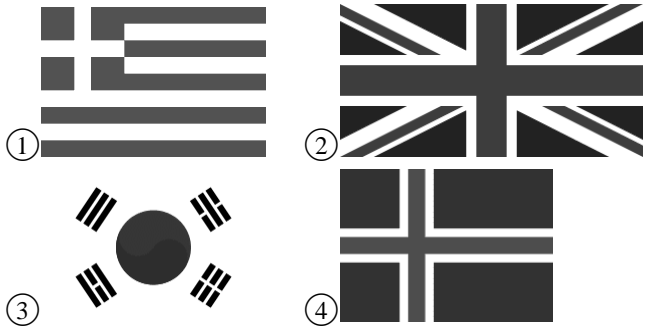
### 一、畫畫看，做做看：

1. 蝙蝠是一種左右對稱的動物，弟弟想用拼豆做一隻蝙蝠，已經拼好一半，虛線表示對稱軸，請幫忙完成蝙蝠的另一半。

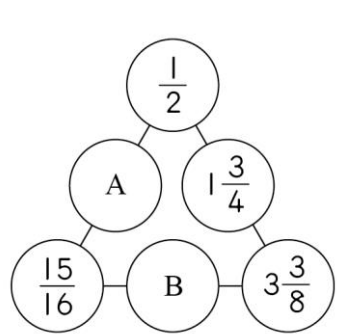


### 二、選擇題：

1. ( ) 弟弟正在看世界各國的國旗，突然說：「媽媽你看！這個國旗是線對稱圖形耶！」，弟弟正在看下面哪一個國家的國旗呢？

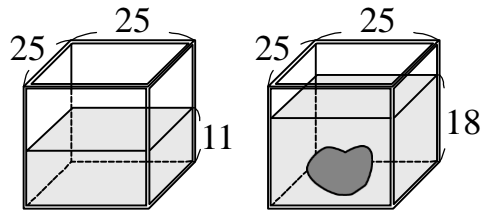


2. ( ) 下圖中三角形三條邊上的分數和都相等，算算看，圈圈裡 A 和 B 的數各是多少？



- ① A 是  $4\frac{3}{16}$ ，B 是  $1\frac{5}{16}$   
 ② A 是  $3\frac{3}{16}$ ，B 是  $\frac{5}{16}$   
 ③ A 是  $3\frac{3}{8}$ ，B 是  $1\frac{3}{4}$   
 ④ A 是  $4\frac{3}{8}$ ，B 是  $1\frac{1}{2}$

3. ( ) 下圖容器的厚度是 2 公分，水中物體的體積是多少立方公分？



(單位：公分)

- ① 3087 立方公分 ② 4375 立方公分  
 ③ 7938 立方公分 ④ 11250 立方公分
4. ( ) 下面說法哪一個正確？  
 ① 兩個容器的體積一樣大，容積也會一樣大。  
 ② 兩個容器的容積一樣大，體積不一定一樣大。  
 ③ 兩個容器中，體積比較大，容積一定比較大。  
 ④ 兩個容器中，容積比較小，體積一定比較小。
5. ( ) 下面哪一個分數不能再約分了？  
 ①  $\frac{26}{39}$  ②  $\frac{38}{57}$  ③  $\frac{67}{81}$  ④  $\frac{56}{91}$
6. ( ) 「 $720 \times 540 \div 360 \div 18$ 」和下面哪一個算式算出來的答案不一樣？  
 ①  $(720 \div 360) \times (540 \div 18)$   
 ②  $540 \times 720 \div 18 \div 360$   
 ③  $720 \div 18 \times 540 \div 360$   
 ④  $720 \times 540 \div (360 \div 18)$

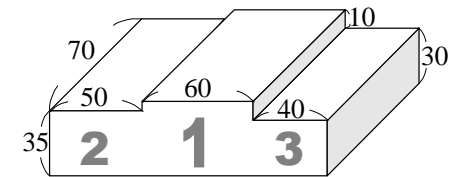
### 三、應用題：

1. 若蘭從鏡子中看到  $52-28$ ，這題計算題正確的答案是多少？

2. 媽媽分裝珍珠奶茶，要裝在一個長 10 公分、寬 7 公分、高 8 公分的長方體保鮮盒中，已知媽媽裝完奶茶後，奶茶高度是 6 公分，媽媽再把珍珠放進去後，還差 75 毫升剛好裝滿，放進去的珍珠體積為多少立方公分？

3. 新興國小最近要種樹美化校園，已經規畫好一條道路作為林蔭大道，且在兩側每隔  $\frac{2}{3}$  公尺種一棵樹，頭尾皆要種樹，已知學校準備了 32 棵樹要種，這條林蔭大道長多少公尺？

4. 學校要用水泥砌一個頒獎臺，設計圖如下，已知一袋水泥可以砌 35000 立方公分，砌好這個頒獎臺需要幾袋水泥？



(單位：公分)

5. 學校和公園相距 2.024 公里，小橙從學校出發前往公園，走了 0.882 公里後，休息 5 分鐘，又走了 0.634 公里後，小橙距離公園還有幾公里？